

Министерство образования и науки РБ
Еравнинский район
МБОУ «Сосново-Озерская средняя общеобразовательная школа №2»

Викторина «Знатоки географии»

Жалсобон Т.Б.

2013 г.



Конкурс «Красноречие»

«Значение географии в жизни человека»



Конкурс «Разминка»

Правила игры:

Необходимо ответить на
больше количество
вопросов за 1 минуту



Конкурс «Географическая математика»

Какому расстоянию на местности соответствует отрезок длиной 2см на картах масштабом:

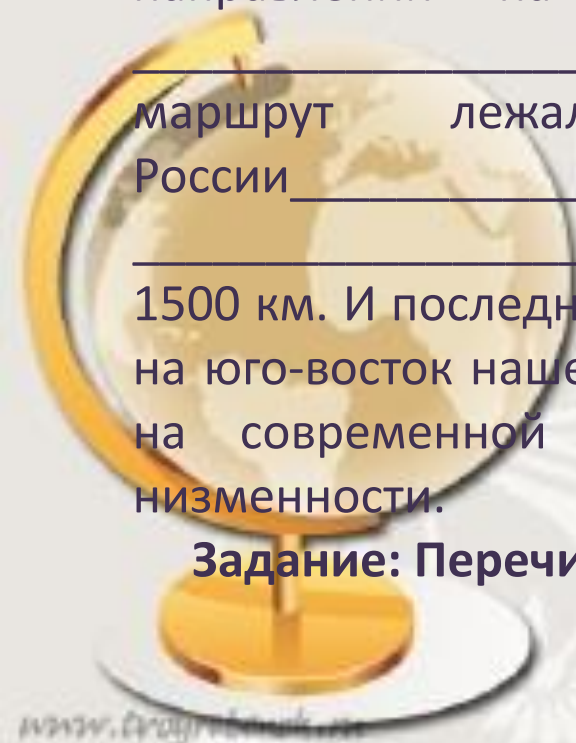
- а) 1:50 000;
- б) 1:800 000;
- в) 1:25 000 000?

1. Один из героев Жюль Верна совершил фантастическое путешествие к центру Земли через кратер потухшего вулкана в точке 64° с. ш., 21° з. д. Скажите, как называется остров, на который поместила вулкан фантазия Жюль Верна.
2. В 1856 г. английский путешественник Давид Ливингстон совершил открытие замечательного объекта. Найдите его на карте по координатам 18° ю. ш., 26° в. д.
3. Этот остров имеет несколько названий: Рапа-Нуи, Вайгу, но чаще его обозначают под другим названием. Найдите его на карте (27° ю. ш., 109° з. д.).
4. Самый высокий водопад мира низвергается с высоты 1054 м. Укажите его название, если его координаты 6° с. ш., 61° з. д.
5. 10 января 1821 г. русская экспедиция на судах «Восток» и «Мирный» открыла остров. Его координаты 69° ю.ш. и 91° з.д. найдите и назовите этот остров
6. Корабль находящийся в точке 30° ю. ш 70° в.д. потерпел крушение, радист передал координаты своего корабля и попросил помощи. В район бедствия направились два корабля «Надежда» (30° ю.ш. 110° в.д.) и «Вера» (20° ю.ш. 50° в.д.). Какой корабль придет быстрее на помощь гибнущему судну?

Конкурс «Путешественники»

Ваня очень любит путешествовать. Этим летом он побывал на севере нашей страны, на полуострове, который говорит о своем размере. Полуостров _____ находится на севере одной из крупнейших равнин мира _____. Свое путешествие он начал от крайней северной точки полуострова _____, направился на север на 750 км до устья самой длинной реки России _____. Затем он продвигался в юго-западном направлении на 1000 км до третьей по высоте вершине _____ гор. Высота составляет _____ м. Далее его маршрут лежал на запад до северной столицы России _____, находящегося на побережье _____ залива, протяженность маршрута примерно 1500 км. И последнее путешествие он совершил на расстояние в 2000 км на юго-восток нашей страны до единственного места ниже уровня моря на современной территории России _____ низменности.

Задание: Перечислите географические объекты, где побывал Ваня.





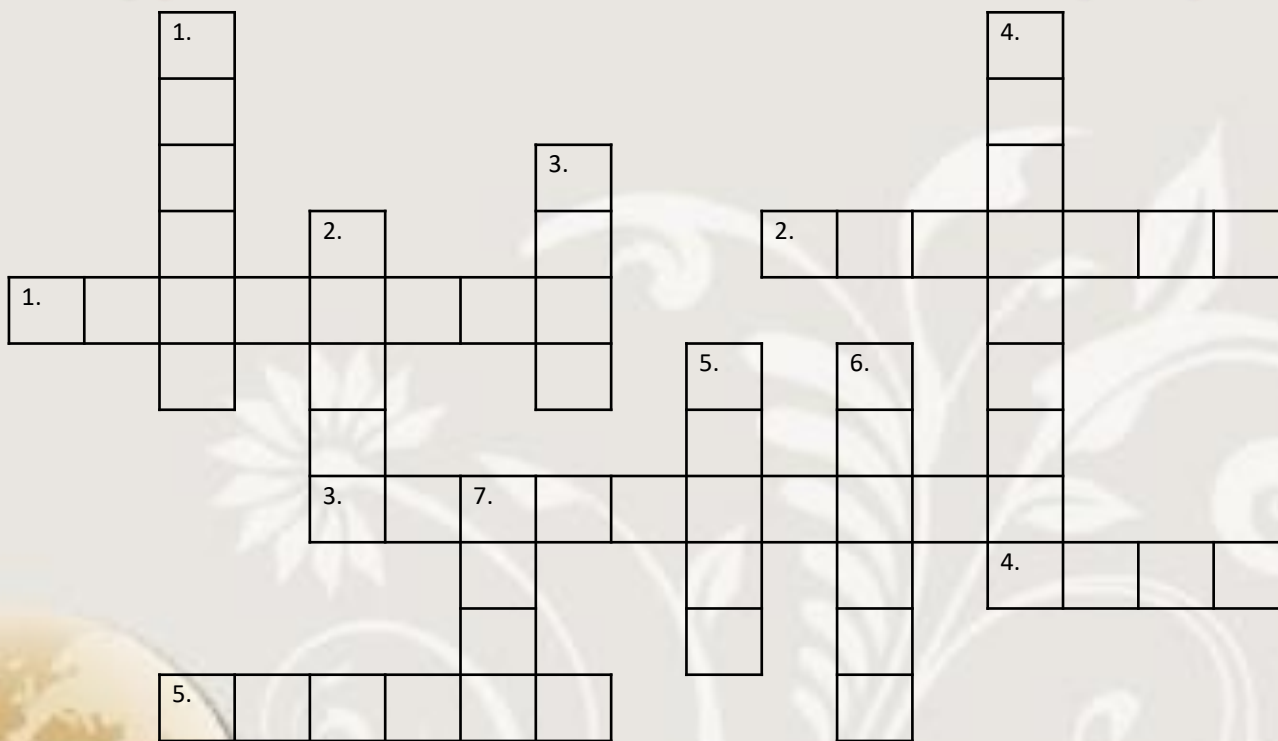
Конкурс «Самый внимательный»

Правила игры:

Если звучит термин или понятие из раздела «Литосфера» то прыгаем назад, если из темы «План и карта» то вперед. Кто был не внимателен, тот выбывает.



Конкурс «Занимательная география»



По горизонтали:

1. Участок земной поверхности над очагом землетрясения. 2. Природное тело с определенным составом и структурой. 3. Осадочная порода, состоящая из обломков горных пород. 4. Земная... 5. Конусовидная гора, состоящая из застывшей лавы.

По вертикали:


1. Магматическая горная порода, состоящая из трех минералов. 2. Канал, через который изливается магма. 3. Здесь температура выше 4 000 градусов цельсия. 4. Осадочная горная порода, из которой образуется метаморфическая порода – мрамор. 5. Органическая осадочная порода, распространенный вид топлива. 6. Толщина этого слоя в процентном соотношении – 87 %. 7. Излившаяся на поверхность магма называется

....

Конкурс «Объясни»



Гейзер



Цунами



Жерло вулкана



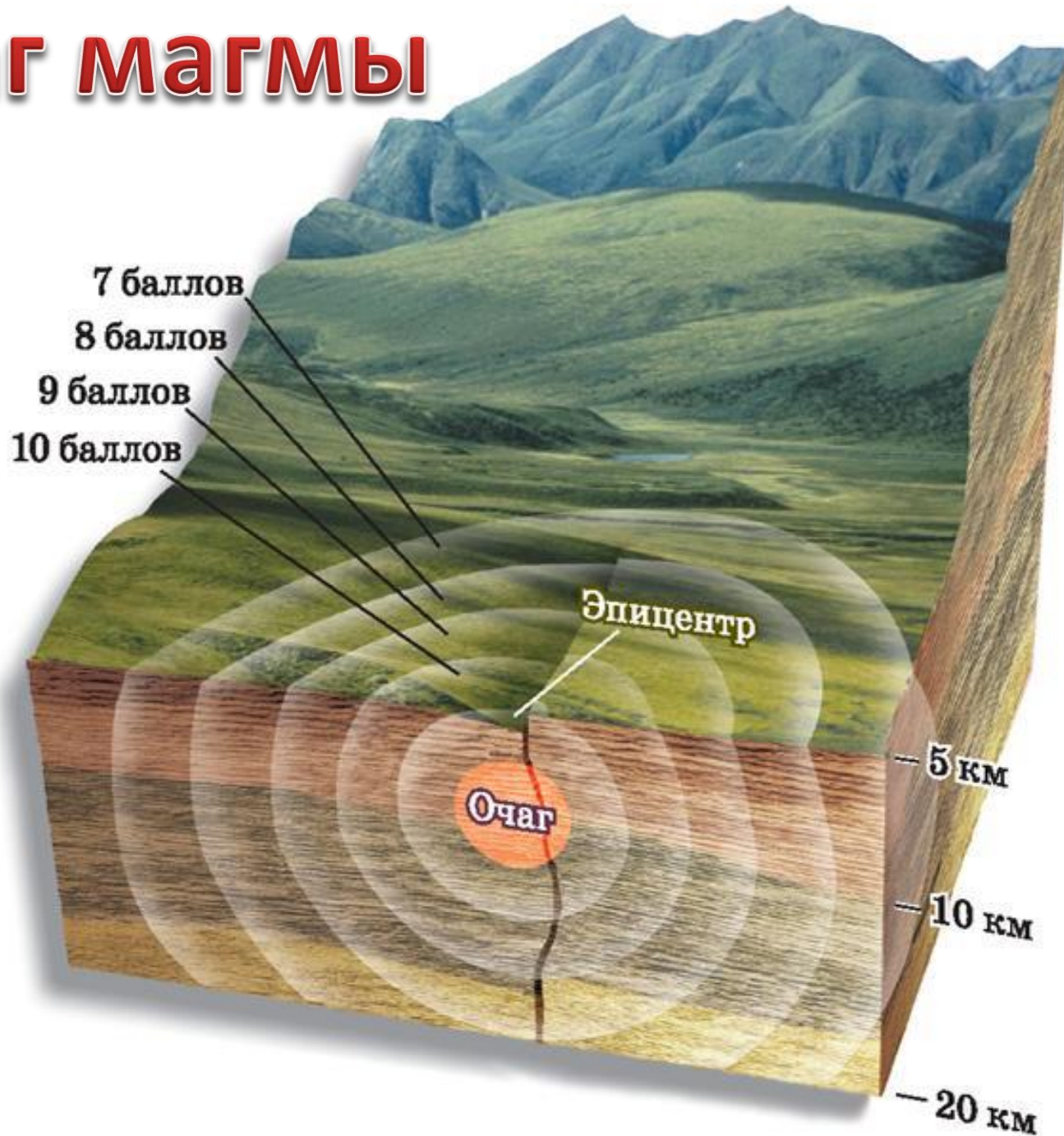
Равнина




Гималаи




Очаг магмы






- «Хорошо»



- «Удовлетв.»



- «Плохо»